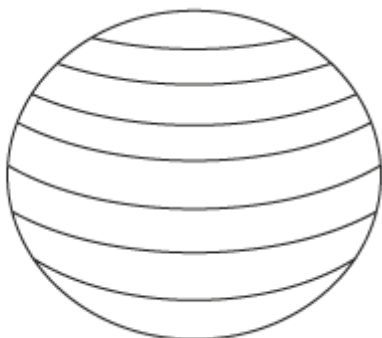


Pracovný list geografické súradnice

1. Doplň správne slová

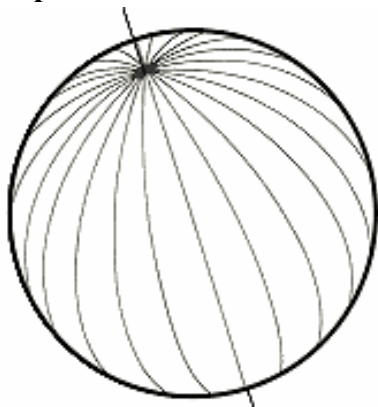
Nultý poludník delí zemeguľu na a Poludníky určujú zemepisnú súradnicu Rovník delí zemeguľu na a Rovnobežky určujú zemepisnú súradnicu Poloha určitého miesta na zemi sa potom zapisuje nasledovne: 10° s. z. š. 50° v. z. d. (čítame: 10 stupňov severnej zemepisnej šírky, 50 stupňov výchovnej zemepisnej dĺžky)

2. Červenou farbou vyznač severnú pologuľu, modrou južnú, zelenou rovník:



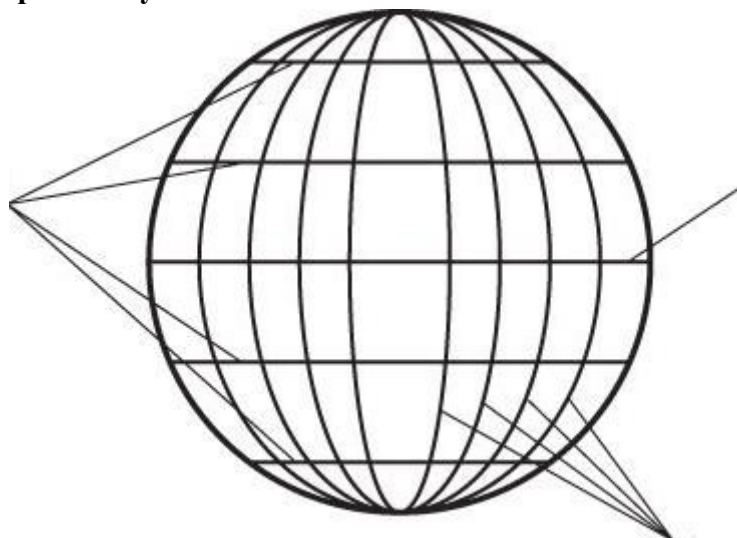
R_____Y

3. Červenou farbou vyznač východnú pologuľu, modrou západnú, zelenou nultý poludník:



P_____Y

4. Pomenuj myslené čiary na Geografickej sieti, modrou obtiahni rovnobežky, červenou poludníky.



5. Nasledovné miesta nájdite podľa zemepisných súradníc:

- a) 70° j. z. š. 40° z. z. d. - (more)
- b) 50° s. z. š. 60° z. z. d. - (záliv)
- c) 50° s. z. š. 70° v. z. d. - (plošina)
- d) 60° s. z. š. 20° v. z. d. - (súostrovie)
- e) 10° s. z. š. 10° z. z. d. - (vysočina)
- f) 30° j. z. š. 20° v. z. d. - (štát)
- g) 30° j. z. š. 160° z. z. d. - (panva)

6. Určite more alebo ostrov, na ktorom sa nachádza miesto so súradnicami:

- 45° v. g. d., 20° j. g. š.
- 20° z. g. d., 65° s. g. š.
- 170° v. g. d., 40° j. g. š.
- 80° v. g. d., 8° s. g. š.
- 40° z. g. d., 80° s. g. š.
- 180° g. d., 60° s. g. š.

Dnes sa mi pracovalo:

