

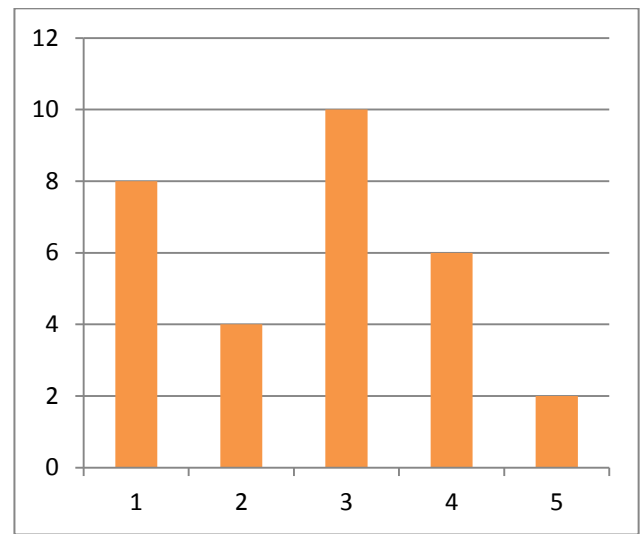
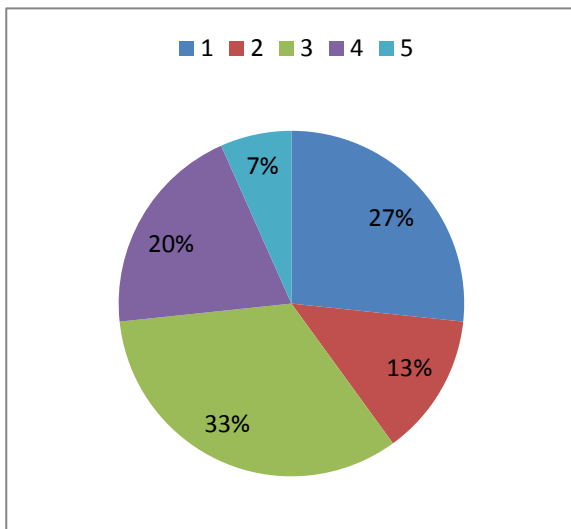
DALTONSKÉ ZADANIE – GRAF 7.ROČNÍK

MENO:

HODNOTENIE:

1. Pozorne si prečítajte a pozrite tabuľku a príslušné grafy, odpovedajte na otázky a dokončite vety.

známky	1	2	3	4	5
počet	8	4	10	6	2



Koľko písalo test žiakov?

Najčastejšia známka bola.....

Trojku a lepšiu známku získalo.....žiakov.

Koľko percent žiakov na teste neuspelo?.....

Koľko percent žiakov na teste uspelo?.....

Je pravda, že viac ako 50% žiakov malo lepšiu známku ako 3? Áno-nie

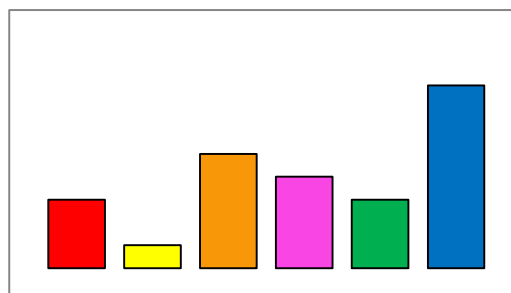
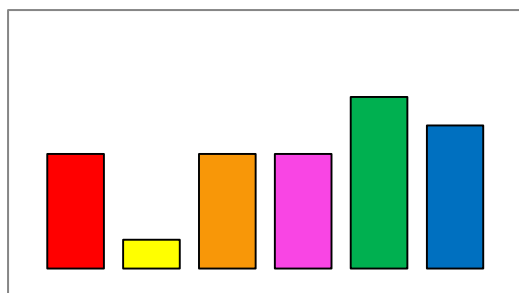
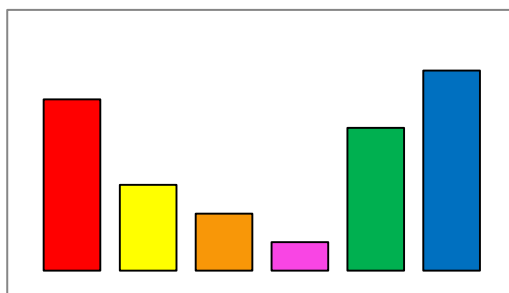
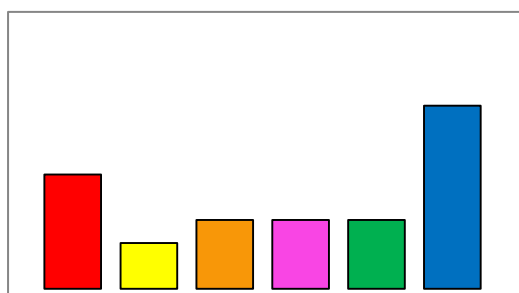
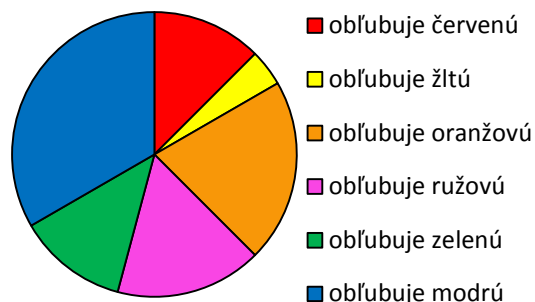
1/3 žiakov dostala na teste trojku. Áno- nie

2. Kruhový diagram vyjadruje obľúbenosť

farby medzi žiakmi 7. ročníka.

Ktorý stĺpcový diagram zodpovedá

tomuto kruhovému diagramu?



3. Dopln vety

Do triedy chodí 52% dievčat, chlapcov je.....

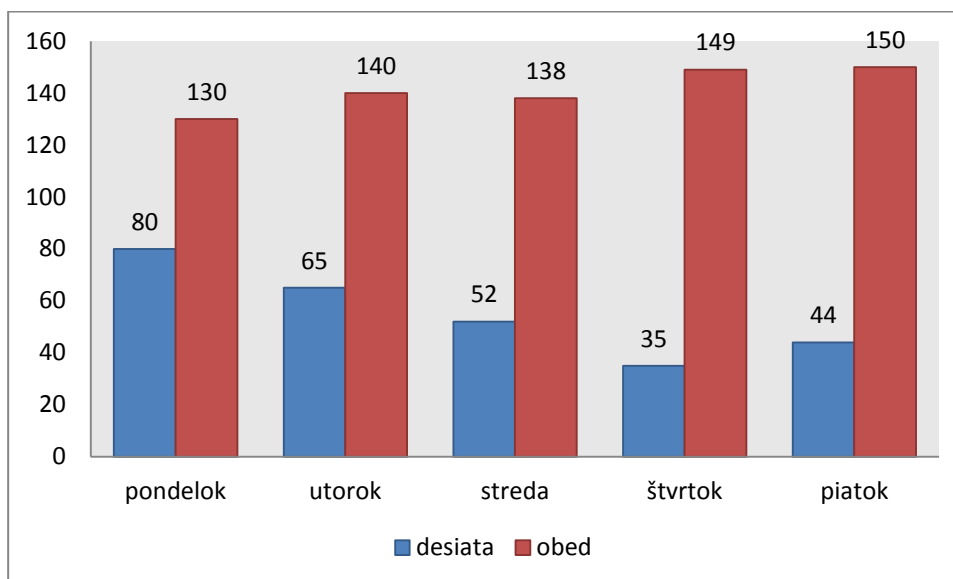
More tvorí 70% povrchu Zeme, pevnina tvorí.....

Práčka zlacnela o 15% z pôvodnej ceny, pri jej kúpe zaplatímz pôvodnej ceny.

Na výlete pán Držgroš minul $\frac{3}{4}$ svojich úspor, zostalo mu v peňaženke%.

Jedno promile je z celku.

4. Graf zachytáva počet vydaných desiat a obedov v danom dni v jednom týždni na škole. Odpovedajte na dané otázky



Koľko obedov za celý týždeň vydali v škole?.....

V ktorom dni bol rozdiel medzi desiataou a obedom najväčší?.....

O koľko viac obedov vydali v piatok ako v stredu?.....

Za týždeň sa odstravovalo na obede viac ako 700 žiakov áno – nie

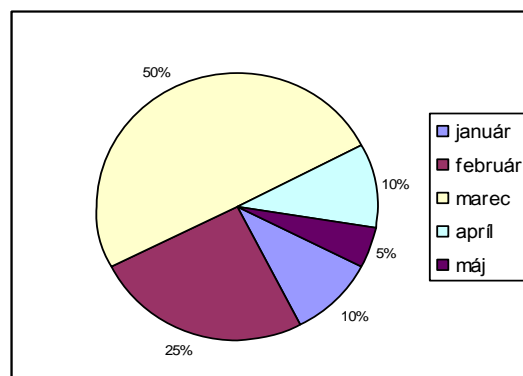
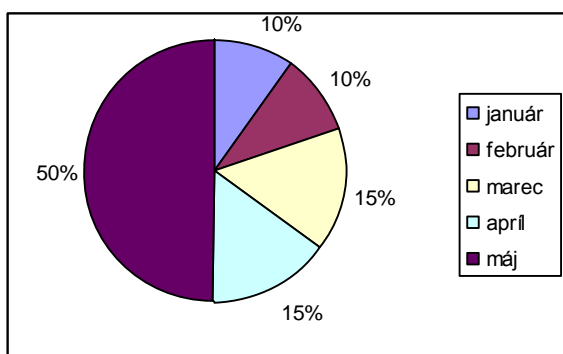
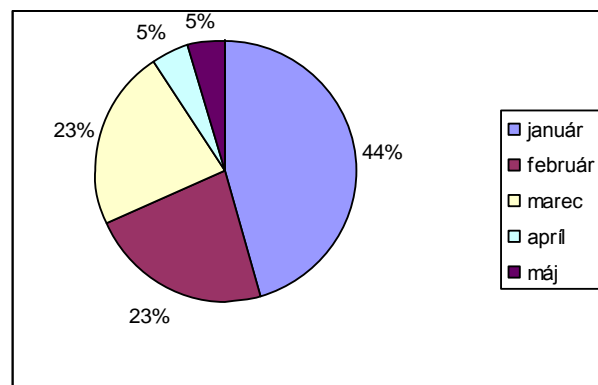
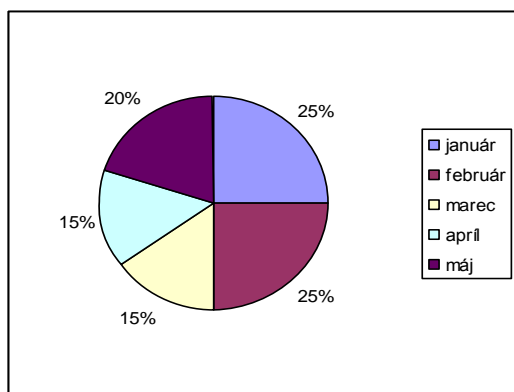
V ktorom dni desiatovalo aj obedovalo najviac žiakov?.....

O koľko viac navarili obedov za týždeň ako desiat?.....

Výpočty:

5. Zistite, ktorý graf prislúcha danej tabuľke

	január	Február	marec	apríl	máj
Počet predaných áut	2	5	10	2	1



Pracovalo sa mi:

na 100% 90% 80% 70% 60% 50% 40% 30% 20% 10% 0%