

meno:

trieda:

úspešnosť:

## Pracovný list pre VI. ročník

### Starovek- opakovanie

1) História ľudstva sa delí na obdobia:

a) doplň názvy všetkých období

b) vyfarbi obdobie, ktoré začalo vznikom prvých veľkých ríš



2) Čo bolo skôr? V každom riadku podčiarkni ten správny výraz.


kamenná doba - bronzová doba

bronzová doba - medená doba

medená doba - kamenná doba

železná doba - bronzová doba

3) Z písmen v rámečku poskladaj slová a vysvetli, čo znamenajú.



---

---

---



---

---

---

4) **Zakrúžkuj správne odpovede:**

**Bronz je zliatina medi a:**

- a) zlata
- b) cínu
- c) striebra

**Megalit je :**

- a) hlinená nádoba
- b) bronzová zbraň
- c) stavba z kameňov

**Kelti žijúci na našom území boli:**

- a) Helvéti
- b) Kotíni
- c) Bójovia

**Centrom keltskej moci bol:**

- a) zikkurat
- b) oppidum
- c) pyramída

**K najstarším kovom nepatrí:**

- a) železo
- b) meď
- c) zlato

**Druidi boli:**

- a) kňazi
- b) hudobníci a básnici
- c) vládcovia

**Bardi boli:**

- a) kňazi
- b) hudobníci a básnici
- c) vládcovia

**Viera v mnohých bohov sa nazýva :**

- a) polyteizmus
- b) akropola
- c) hierarchia

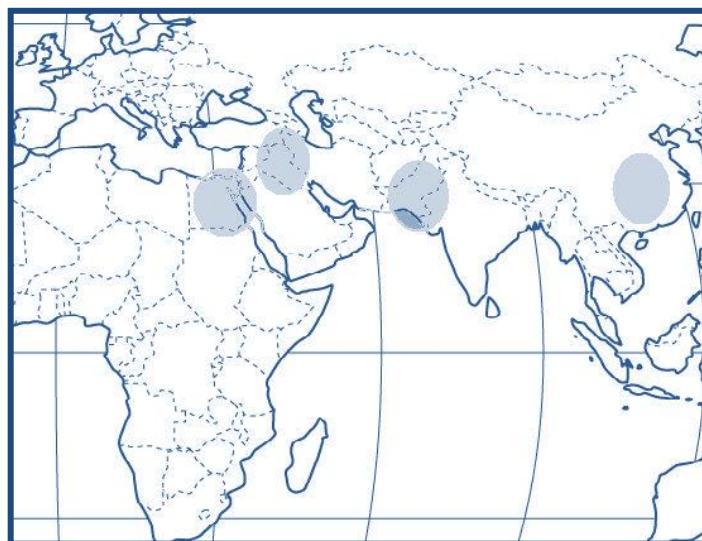
5) **Zakresli štáty z tabuľky v predchádzajúcej úlohe do pripravenej mapy- do vyznačených kruhových plôch v mape vpiš veľké začiatkové písmeno štátu:**

1 MEZOPOTÁMIA

2 EGYPT

3 ČÍNA

4 INDIA



6) Dopln štáty z mapy v predchádzajúcej úlohe k riekam, v povodí ktorých vznikli.

RIEKA	ŠTÁT V JEJ POVODÍ
Eufrat, Tigris	
Níl	
Ganga, Indus	
Chuang-Che, Jang c tiang	

7) Nasledujúce slová nám povypadávali z viet. Vráť ich tam, kam patria.

*Sumeri, zikkuratov, Chammurapi, zavlažovacích, Feničania*

- V oblasti Mezopotámie boli prvým známym národom\_\_\_\_\_.
- Úrodnosť polí sa zvyšovala výstavbou\_\_\_\_\_ kanálov.
- Tvorcom krutého zákonníka v Babylonskej ríši bol \_\_\_\_\_.
- \_\_\_\_\_ boli národom, ktorý vynášiel peniaze.
- Chrám v Mezopotámii mali podobu \_\_\_\_\_.

8) Nájdi v osemsmerovke všetky pojmy:



AMON  
BRONZ  
HIEROGLYFY  
BIATEC  
MENI  
PAPYRUS

9) Prečítaj si text a odpovedz na otázky pod ním.

**Zlatý vek pyramíd**



Najstaršou pyramídou v Egypte je tzv. stupňovitá pyramída v Sakkáre, ktorá sa dvíha do výšky asi 60 m. Táto stavba sa spája s postavou legendárneho génia menom Imhotep, ktorý ju mal postaviť pre faraóna Džósera.

V Gíze, ležiacej v strede plochej púšte osem kilometrov od Káhiry, sa k nebu týčia tri veľké pyramídy. Blízko sa nachádza aj Veľká sfinga.

Prvá v poradí a zároveň najväčšia z nich, tu bola hrobka faraóna Chufewa. Ako druhú postavili strednú pyramídu. Je o čosi menšia a patrila Chufewovmu synovi Raachefovi. Tretiu, oveľa menšiu pyramídu si dal postaviť faraón Menkewré, Chufewov vnuk.

● **Označ vety X-nesprávne alebo ✓ -správne**

Najstaršia pyramída v Egypte je vysoká 80 m.

Staviteľom najstaršej pyramídy bol Imhotep.

Hrobka faraóna Chufewa sa nachádza v Gíze.

Pyramída faraóna Džósera je stupňovitá.

Faraóni pochovaní v Gíze boli pokrvne príbuzní.

● **Čo vidíš na obrázku? Napíš názov, ktorý sa spomína aj v texte**



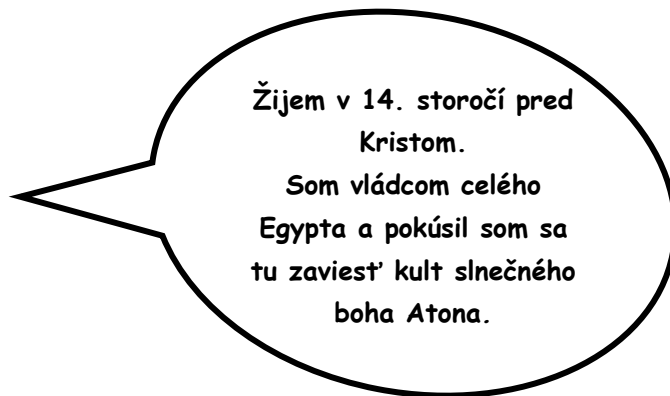
10) Vytvor dvojice. Slová z prvého stĺpca pospájaj zo slovami v druhom stĺpci. Výsledok zapíš do rámečka v tvare napr: A1, B2...

- A. Halštat
- B. Latén
- C. Kelti
- D. Níl
- E. Babylon
- F. Kartágo

- 1. Oppidum
- 2. Molpír
- 3. Chammurapi
- 4. Feničania
- 5. Kotíni
- 6. Egypt

--	--	--	--	--	--

11) Kto to hovorí? Prečítaj si text a napíš meno osoby, ktorá sa v ňom predstavuje.



12) Extra úloha

A	H	N	U
B	I	O	V
C	J	P	W
D	K	Q	X
E	R	Y	
F	L	S	Z
G	M	T	SH

● Vyskúšaj si písmo, ktorým písali pisári v Starovekom Egypte. Môžeš sa napríklad naučiť napísať svoje meno.

Sebahodnotenie



**Zdroje:**

text <http://www.historiarevue.sk/index.php?id=2004magdolen24>

<http://okolosveta.meu.zoznam.sk/afrika/egypt/pyramidy-v-gize/>

pyramidy <http://files.okolosveta.meu.zoznam.sk/200000092->

[0afab0bf3b/kahira\\_giza\\_pyramidy.jpg](http://files.okolosveta.meu.zoznam.sk/200000092-0afab0bf3b/kahira_giza_pyramidy.jpg)

sfinga <http://files.okolosveta.meu.zoznam.sk/200000094-b7b22b8cd8/sfinga.jpeg>

mapa [http://mapasveta.info/svet/images/svet\\_slepa\\_mapa2\\_hranice.gif](http://mapasveta.info/svet/images/svet_slepa_mapa2_hranice.gif)

hieroglyfy <http://www.virtual-egypt.com/newhtml/hieroglyphics/sample/alphabet.htm>

<http://www.toolsforeducators.com/wordsearch/wordsearchq.php?hint=text>

