

Meno: _____

Trieda: _____

Počítame do 20

Daltonské zadanie z matematiky pre II. ročník

1. Dopln' číselný rad.










			6								15				
--	--	--	---	--	--	--	--	--	--	--	----	--	--	--	--

2. Čísla v každom obláčiku usporiadaj podľa veľkosti.


14, 15, 5, 20, 6, 11, 1, 8


19, 0, 2, 12, 7, 13, 9, 7

3. Ktoré čísla môžu byť pod listom ?

14 >  20 <  6 < 
 < 5  < 19  < 2
1 >  16 >  20 > 

4. Spoj guľku so správnym vreckom.

6 8 12-6 5 12-4 7
 16-9 7 4 12-8 6 13-7

5. Aké znamienka sú ukryté pod  ?

$8 \text{  10 = 18$

$20 \text{  4 = 16$

$11 \text{  3 = 8$

$16 \text{  8 = 8$

$7 \text{  6 = 13$


$5 \text{  6 = 11$


$14 \text{  7 = 7$


$6 \text{  4 = 2$


$9 \text{  4 = 13$


6. Ktoré ročné obdobie má Andrej najradšej ?


$11 - 8 = \text{  O$

$2 + 7 = \text{  E E$

$16 - 5 = \text{  J$

$14 + 2 = \text{  T$


$7 + 6 = \text{  S$


$12 - 4 = \text{  Ň$



--	--	--	--	--	--	--	--	--

7. Spoj jablčka podľa veľkosti od najmenšieho po najväčšie,



8. Ktoré čísla sú pod  ?

$18 - \text{apple} = 8$

$15 - \text{apple} = 3$

$16 - \text{apple} = 10$

$13 + \text{apple} = 20$

$12 - \text{apple} = 9$

$7 + \text{apple} = 12$

$6 + 6 = \text{apple}$

$\text{apple} - 4 = 8$


$\text{apple} - 3 = 5$

9, Vyhľadaj slovnú úlohu.

Andrej zberal jabĺčka. V pondelok nazbieral 4 košíky jabĺčok, v utorok o 1 košík viac. Koľko košíkov nazbieral spolu ?

výpočet: _____

odpoveď: _____



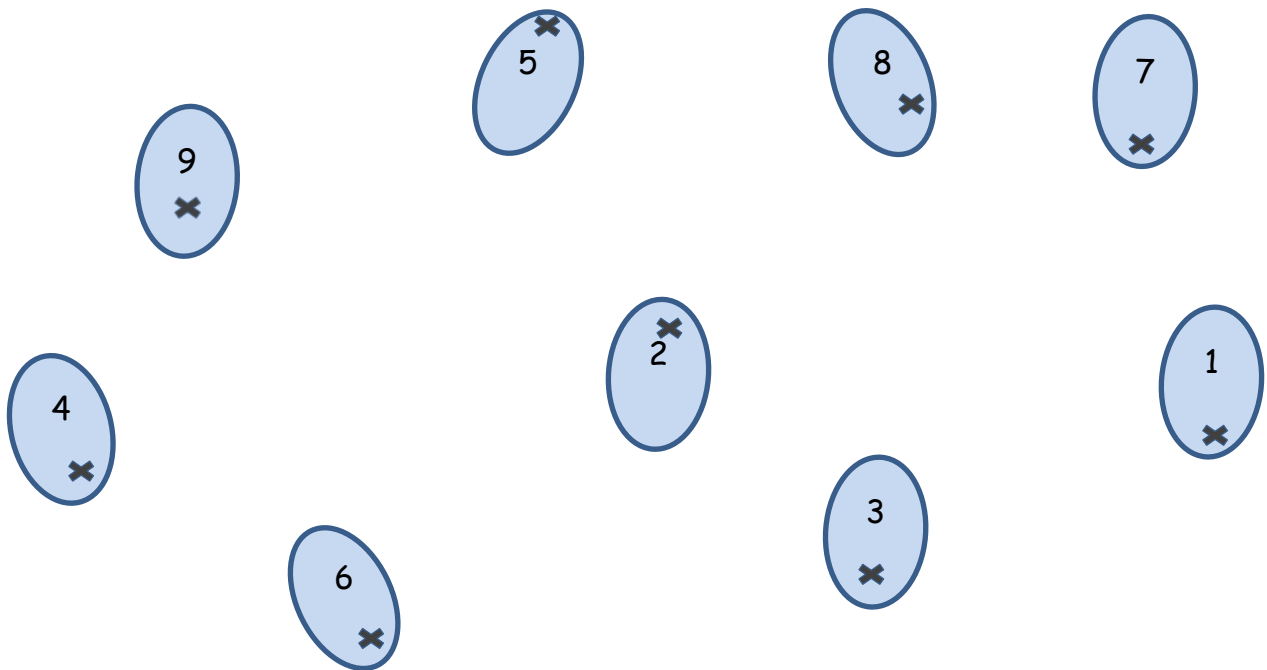
10. Vyhľadaj slovnú úlohu,

Klára varila slivkový lekvár. Keby naplnila ešte 2 poháre, mala by presne 20 pohárov. Koľko pohárov lekváru uvarila ?

výpočet: _____

odpoveď: _____

11. Pospájaj slivky pomocou pravítka.




12. Dopln správne čísla.

$$5 \xrightarrow{+6} \bigcirc \xrightarrow{-2} \bigcirc \xrightarrow{+3} \bigcirc$$

$$14 \xrightarrow{+5} \bigcirc \xrightarrow{-3} \bigcirc \xrightarrow{+0} \bigcirc$$


$$20 \xrightarrow{-9} \bigcirc \xrightarrow{+4} \bigcirc \xrightarrow{-8} \bigcirc$$

13. Vyfarbi menej ako trinásť šarkanov.




14. Pomôž pavúkovi nájsť cestu do stredu pavučiny.

Help spider find his way home!



15. Vymysli pre Gaštanka 2 príklady na sčítanie so súčtom 15.



Sebahodnotenie:



Zdroje obrázkov

jabloň: <http://www.omalovanky-zdarma.cz/rocne-obdobia/>

šarkan: http://www.dobrarada.sk/portals_pictures/i_000339/i_339112.gif

gaštanko: <http://www.predskolaci.cz/?cat=1683>

list: <http://www.predskolaci.cz/?tag=podzimni-basnicky>

chlapec: <http://www.ikidspage.com/3206-the-boy-raking-leaves-coloring-pages>

bludisko pavúk : <http://www.allkidsnetwork.com/crafts/halloween/>

smajlíci: <http://www.tiskatka.cz/3-3-home/sada-smajliku.jpg>

