

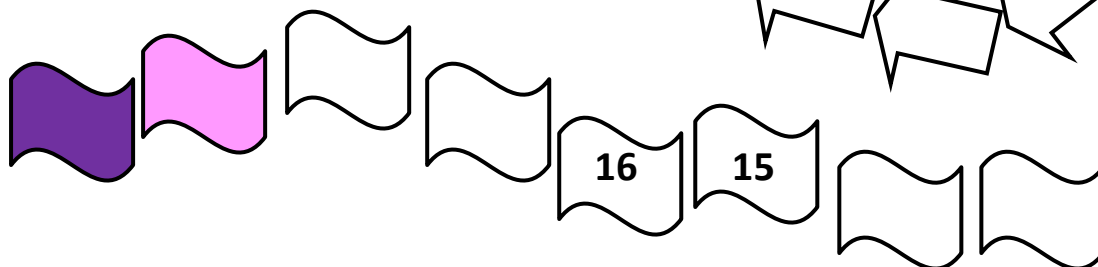
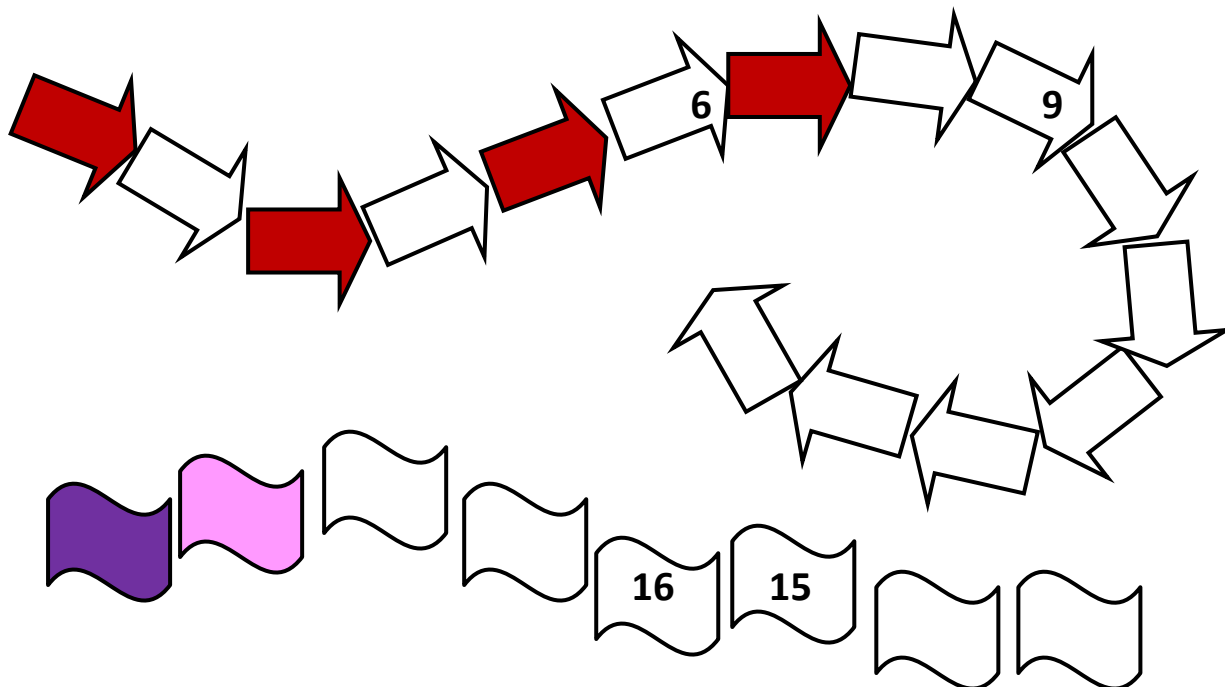
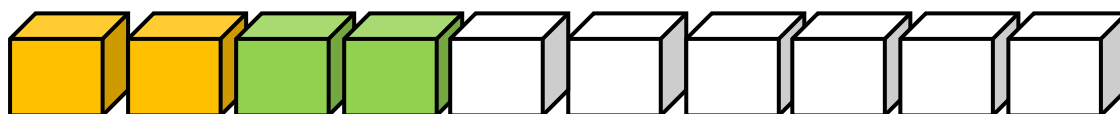
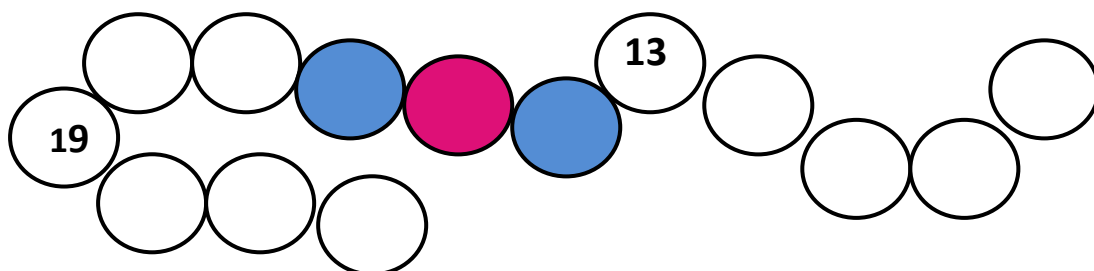
MATEMATIKA - POČÍTANIE DO 20 S PRECHODOM

meno:

dátum:

Hodnotenie:

1. Dopln číselné rady a vyfarbi podľa farebného pravidla.



2. Vypočítaj:

$7 + 4 =$

$8 + 5 =$

$11 - 5 =$

$15 - 7 =$

$13 - 8 =$

$18 - 9 =$

$4 + 8 =$

$7 + 7 =$

$8 + 9 =$

$15 - 7 =$

$3 + 15 =$

$8 + 8 =$

$20 - 4 =$


$12 - 5 =$

$6 + 5 =$

3. Urči, koľko centov je na kôpke. (Môžeš si medzi mince vkladať znamienka a vytvoriť tak matematického hada).



4. Ak dve čísla dávajú dohromady **12**, sú kamaráti. Vyfarbi ich rovnako.



5. Rieš slovné úlohy:

a) V prasiatku som mal 7 centov. Potom som do prasiatka hodil ešte 8 centov. Koľko centov mám v prasiatku?

			=	
--	--	--	---	--

.....

b) V prasiatku som mal 15 centov. Vybral som z neho 9 centov. Koľko centov mám teraz v prasiatku?

			=	
--	--	--	---	--

.....

c) Do prasiatka som si šetril peniaze. Mamička mi dala 4 centy, brat mi dal 9 centov a otecko mi dal ešte 7 centov. Koľko centov mám spolu v prasiatku?

					=	
--	--	--	--	--	---	--

.....


d) Ak si do prasiatka prihodím ešte 5 centov, budem v ňom mať 13 centov. Koľko centov tam mám teraz?

			=	
--	--	--	---	--


.....

Dopíš do každého prasiatka koľko v ňom bolo centov. Ak chceš, pokladničky si vyfarbi.


a)




b)



c)



d)



6. Prečítaj a usporiadaj.

Darinka bola s rodičmi v cirkuse.

Najskôr videla 1 šaša, 3 slonov,


15 zebier, 10 psov a 20 holubíc.

Potom sa predstavilo 6 akrobatov,

5 levov, 4 žirafy a 17 koní.

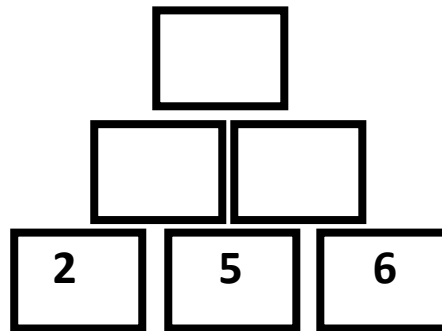
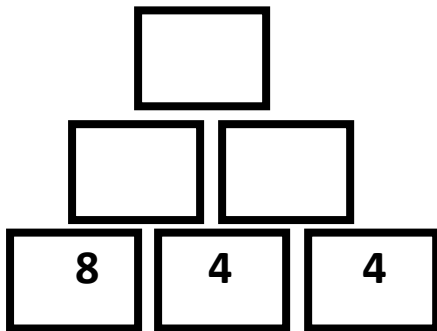
Usporiadaj čísllice od najväčšieho

po najmenšie.



.....

7. Doplň pyramídy:




8. Pokračuj v písaní. Čísla sa pravidelne opakujú.

5, 10, 15, 20, 25

18, 18, 3, 3, 3, 18

4, 22, 4, 4, 22, 4, 4, 4


9. 😊 Pomôž krtkovi a myške vyplniť sčítaciu tabuľku zásob na zimu:



+	4	6	8	9
5				
9				
7				
12				

10. 😊 Pomôž krtkovi vyplniť odčítaciu tabuľku):

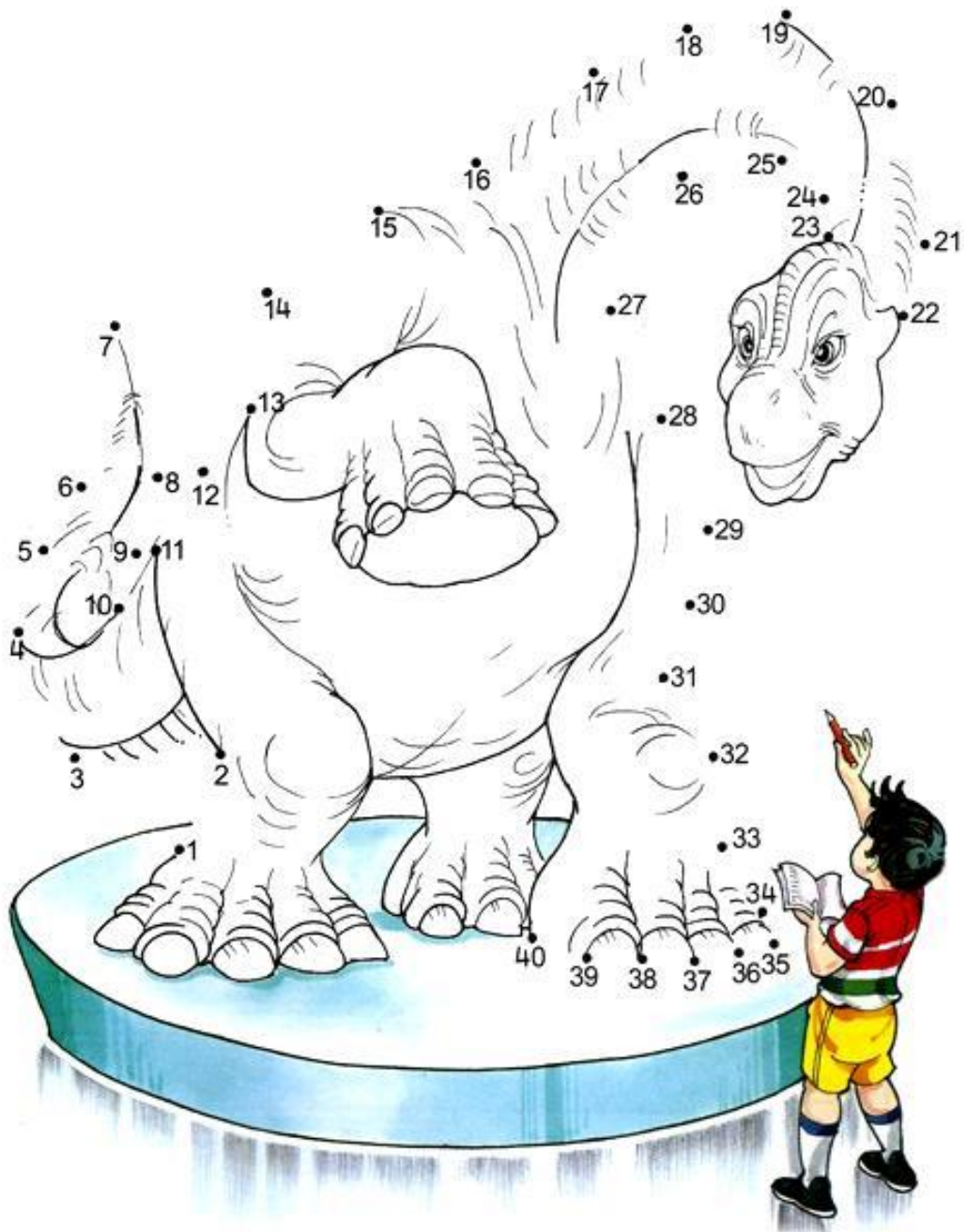
-	4	6	8	5
16				
13				
11				
14				



11. 😊 Vypočítaj matematického hada.

7	+	6	+	5	-	9	+	2	=	
---	---	---	---	---	---	---	---	---	---	--

12. 😊 Pospájaj body. Dokážeš to správne až po číslo 40?



Ako sa mi dnes pracovalo:



Zdroje:

5centová minca: 1.10.2013 , dostupné na:

[http://www.bundesbank.de/Redaktion/EN/Bilder/Bildarchiv_fuer_Bilderstrecken/Euro Muenzen europaeisch/euro muenzen 5 cent](http://www.bundesbank.de/Redaktion/EN/Bilder/Bildarchiv_fuer_Bilderstrecken/Euro_Muenzen_europaeisch/euro_muenzen_5_cent)

2centová minca: 1.10.2013, dostupné na:

http://upload.wikimedia.org/wikipedia/de/thumb/a/a5/2_cent_coin_Eu_serie_1.png/160px-2_cent_coin_Eu_serie_1.png

1centová minca: 1.10.2013, dostupné na:

http://en.academic.ru/pictures/enwiki/69/Euro_1cent.png

Prasiatko: 1.10.2013, dostupné na:

<http://www.i-creative.cz/wp-content/uploads/2012/02/pigss.jpg>

Klaun a dievčatko: 3.10.20132, dostupné na:

<http://omalovanky.zahrajsa.sk/wp-content/gallery/cirkus/klaun-a-dievcatko.gif>

Smajlík- 4.10.2013, dostupné na:

<http://www.forbelsky.com/d/fotogalerie/smajlici/img00006.jpg>

krtko a myška- 4.10.2013, dostupné na:

http://www.pohadkar.cz/public/media/O_krtkovi/Omalovanky/omalovanky-o-krtkovi-6.jpg

krtko vo vláčiku_ 4.10.2013, dostupné na:

<http://www.omalovankyprodeti.cz/img/krtecek-v-masince.jpg>

spájanie bodov- 4.10.2013, dostupné na:

<http://www.math-only-math.com/images/connect-the-dots-worksheets.jpg>

