

# ČO VIEME NA KONCI 1.ROČNÍKA - MATEMATIKA

Meno:

Trieda:

Hodnotenie:

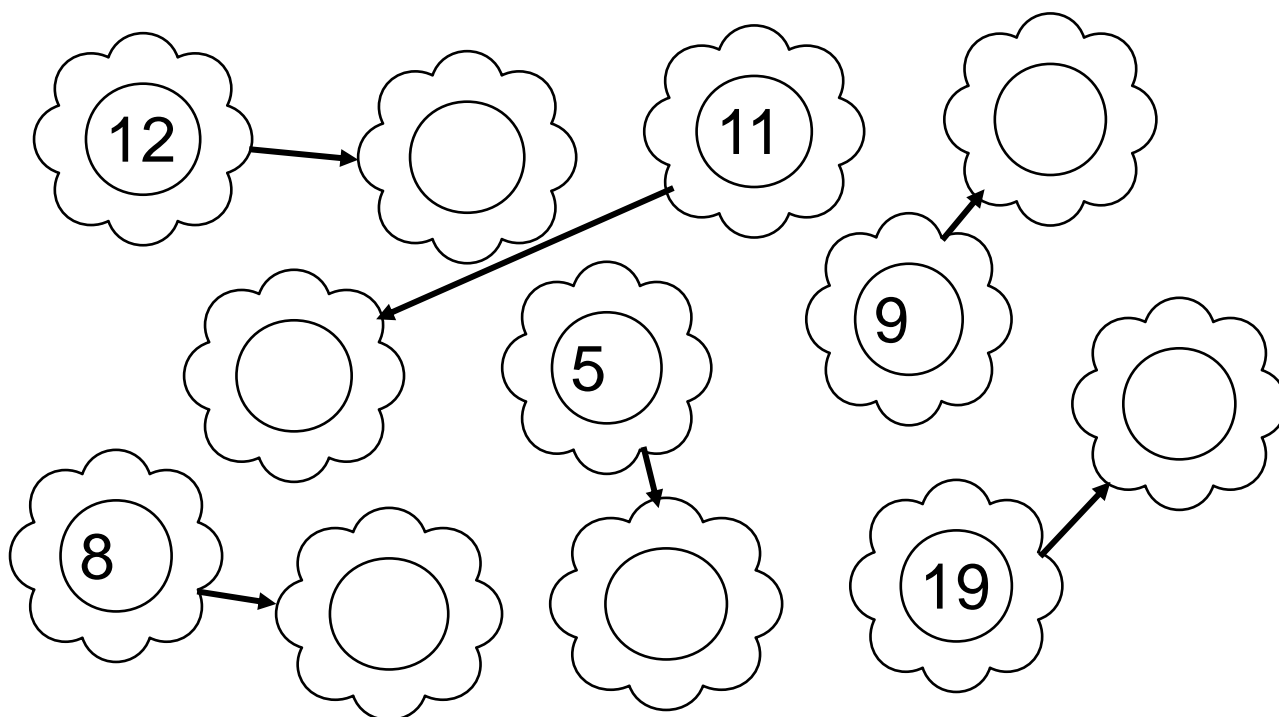
## 1. Dopln správne číselné rady.

0, 1, 2, ....., 4, 5, 6, ....., 8, 9, .....11,.....,13, 14,..... ,16

20, ....., 18, ..... , 16, 15, 14, 13, 12,..... ,..... , ..... , 8, 7,

15, .....,....., 12, 11, 10, 9, 8, 7, ....., ....., 4, 3, 2, 1, 0

## 2. Napíš väčšie číslo:



## 3. Porovnaj : > < =

18  20

11  10

4  9

12  12

15  14

16  16

0  17

13  3

#### 4. Spoj so správnym výsledkom:

Hearts containing math problems:

- $10 + 5$
- $10 + 7$
- $4 + 10$
- $1 + 10$
- $0 + 10$

Hearts containing results:

- 17
- 15
- 11
- 10
- 14

An arrow points from the heart with  $10 + 5$  to the heart with 15.

#### 5. Vypočítaj :

5	+	10	=	
2	+	11	=	
8	+	12	=	
13	+	4	=	
17	-	5	=	
19	-	9	=	
20	-	6	=	
14	+	4	=	
15	+	0	=	

12	+		=	18
20	-		=	11
16	+		=	19
15	-		=	10
9	-		=	3
14	-		=	4
17	+		=	17
18	-		=	13
7	-		=	0

#### 6. Vlož správne znamienko : $+$ $-$

$15 \quad \_ \quad 4 = 11$

$19 \quad \_ \quad 2 = 17$

$4 \quad \_ \quad 16 = 20$

$17 \quad \_ \quad 7 = 10$

$5 \quad \_ \quad 10 = 15$

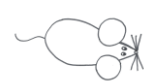

$13 \quad \_ \quad 0 = 1$

## 7. Matematický obdĺžnik:

- ↗	4	1	7	2	8	0	3	5	6	10	9
20											
19											

## 8. Slovná úloha .

Danka dostala od mamičky mačičku. Mačka nachytala 17 myší. 5 myší jej utieklo. Koľko myšiek ostalo mačičke?




			=	
--	--	--	---	--

Výpočet:


Odpoveď: .....

## 9. Spočítaj geometrické tvary :

△	○	☺	□	▭



10. Geometrické telesá . Zadaj si a vyfarbi podľa vlastnej fantázie.



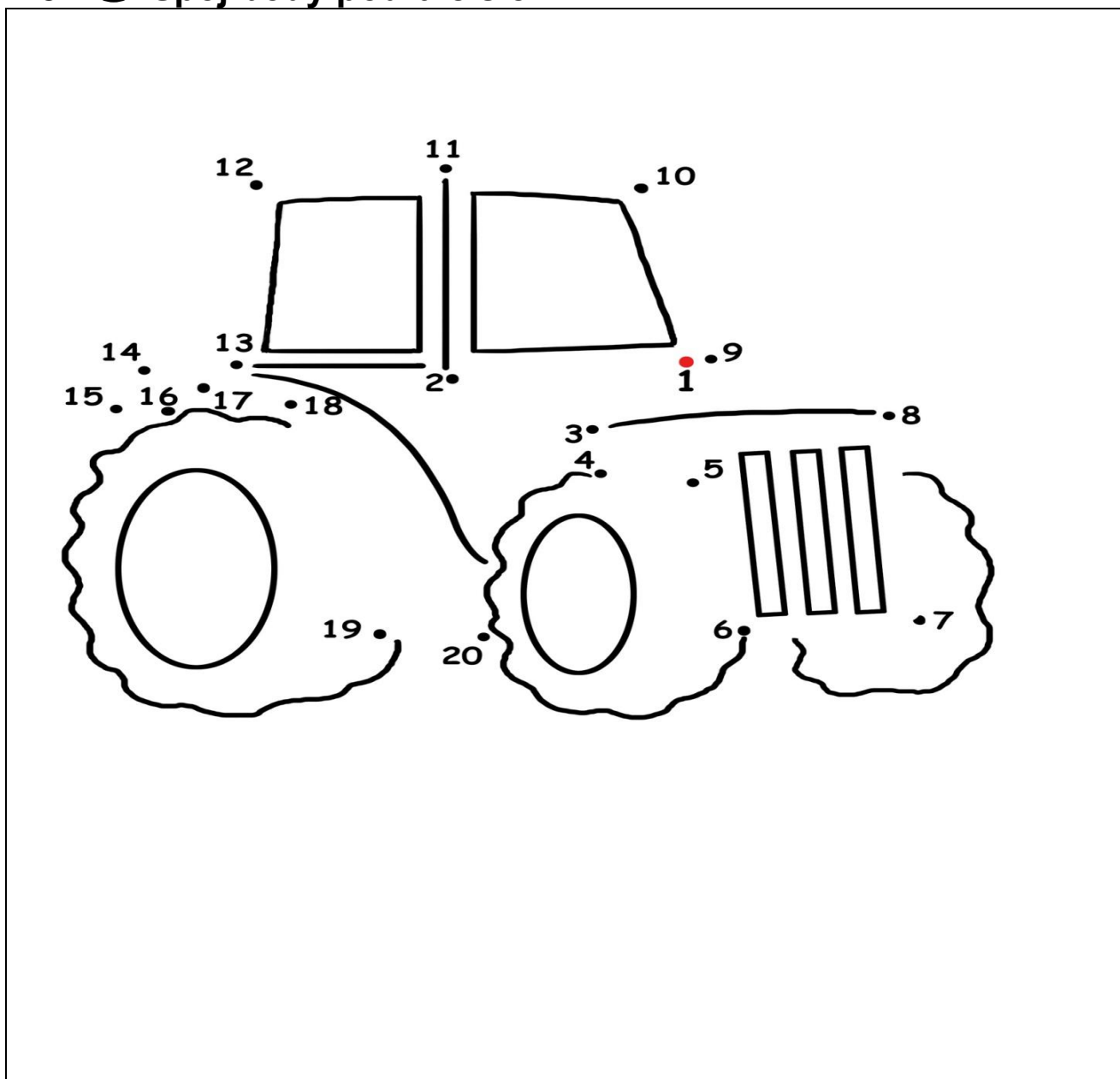
11. Napiš správny počet geometrických telies v úlohe 10.

12. 😊 Vyrieš matematické hady:

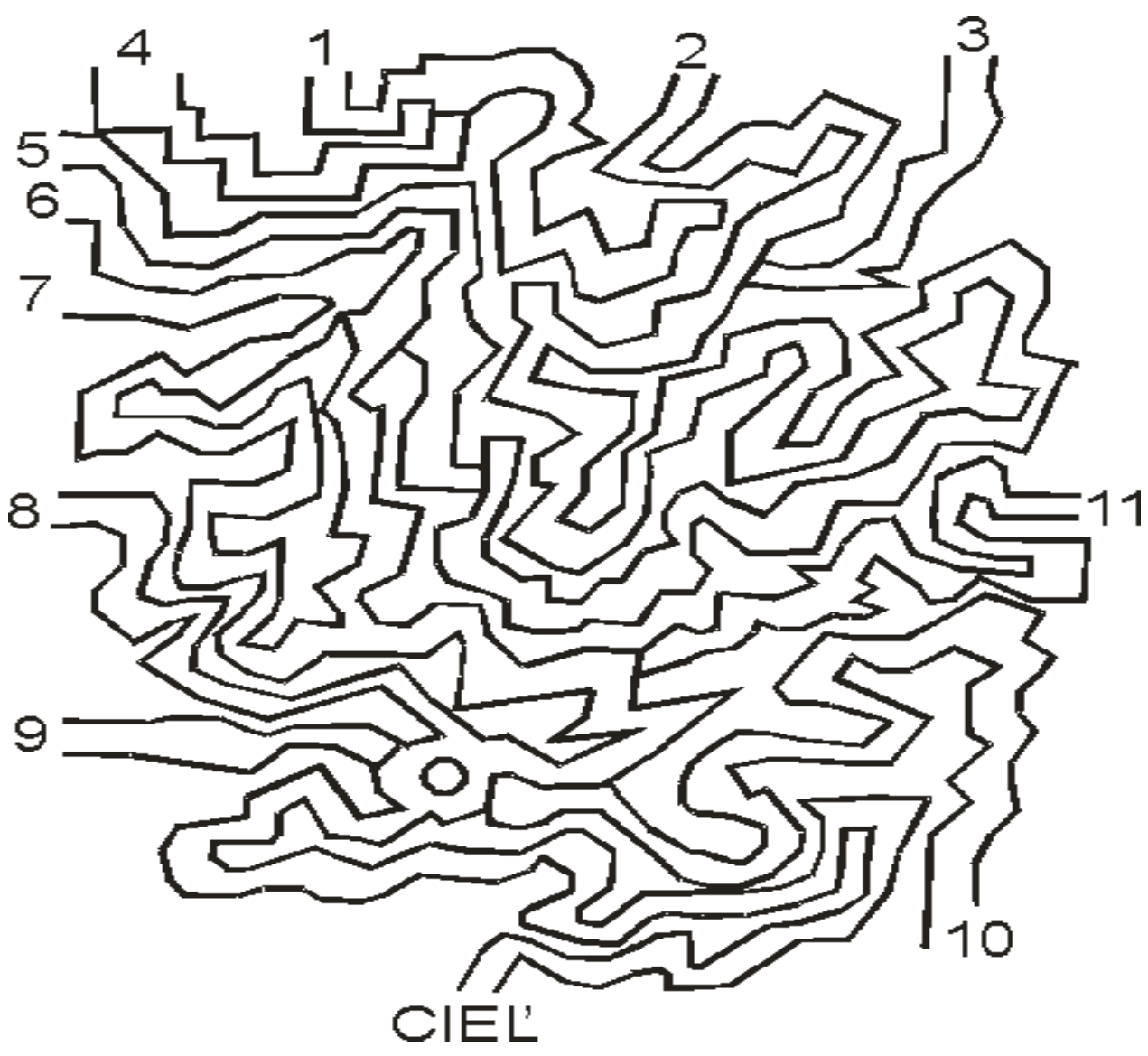
$$17 + 3 \square - 10 \square - 6 \square + 5 \square + 10 = \square$$

$$3 + 4 \square - 6 \square + 12 \square - 3 \square + 10 = \square$$

13. 😊 Spoj body podľa čísiel.



14. 😊 Vyfarbi, cesty, ktorými sa môžeš dostať do cieľa.



Sebahodnotenie:



## ZDROJE:

Bludisko ( 11.5.2013) dostupné na : <http://www.zscerencany.edu.sk/obrazky/bludisko.gif>

Mačka (11.5.2013) dostupné na : <http://www.predskolaci.cz/wp-content/uploads/2009/06/zviratka-kocka.jpg>

Myš 11.5.2013 dostupné na: <http://www.predskolaci.cz/wp-content/uploads/2008/07/myska.gif>

Spájanie bodov (11.5.2013) dostupné na : <http://www.kids-games.w-bg.net/images/tmm.jpg>

Vesmír( 11.5.2013) dostupné na: <http://www.coloringnow.com/images/solar-system-coloring-pages/solar-system-coloring-pages-3.gif>

Traktor- spájanie bodov (11.5.2013) dostupné na: <http://kiboomuworksheets.com/wp-content/uploads/2012/10/Farm-theme-connet-the-dots-tractor-for-Farmers-day.jpeg>

Smajlíci (12.5.2013)dostupné na: <http://www.tiskatka.cz/3-3-home/sada-smajliku.jpg>

